

Name: \_\_\_\_\_

## Aus Plus wird Mal

1 Schreibe eine Plus und eine Malaufgabe!



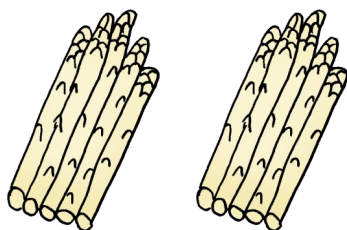
\_\_\_\_\_

\_\_\_\_\_




\_\_\_\_\_

\_\_\_\_\_



\_\_\_\_\_

\_\_\_\_\_




\_\_\_\_\_

\_\_\_\_\_



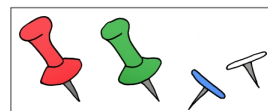

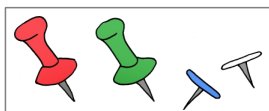
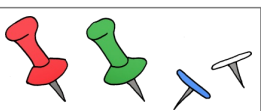
\_\_\_\_\_

\_\_\_\_\_



\_\_\_\_\_

\_\_\_\_\_



\_\_\_\_\_

\_\_\_\_\_

- 2) Schreibe zu jeder Plusrechnung eine Malrechnung in das Kästchen und rechne die Rechnungen aus!

$3 + 3 + 3 + 3 = \underline{\quad}$

$2 + 2 + 2 + 2 + 2 + 2 = \underline{\quad}$

$9 + 9 = \underline{\quad}$

$4 + 4 + 4 + 4 = \underline{\quad}$

$7 + 7 + 7 = \underline{\quad}$

$10 + 10 + 10 + 10 + 10 + 10 + 10 = \underline{\quad}$

$1 + 1 + 1 + 1 + 1 + 1 = \underline{\quad}$

$6 + 6 + 6 = \underline{\quad}$

- 3) Verbinde die Plusrechnung mit der richtigen Malrechnung!

$5 + 5 + 5 + 5 + 5 + 5$

$3 \cdot 7$

$8 + 8 + 8 + 8$

$6 \cdot 5$

$6 + 6 + 6 + 6 + 6$

$8 \cdot 4$

$4 + 4 + 4 + 4 + 4 + 4 + 4 + 4$

$5 \cdot 6$

$2 + 2 + 2 + 2 + 2$

$4 \cdot 8$

$7 + 7 + 7$

$5 \cdot 2$